

BAGES

UNA COMARCA PER COMÈIXER



PEPA ASENSIO
FRANCESC COMAS
JOSEP ANTONI SERRA



CONSELL COMARCAL DEL BAGES

D'aquesta edició:

© **Consell Comarcal del Bages**

Muralla de Sant Domènec, 24

08241 Manresa

Tel. 93 693 03 50

www.ccbages.org

És una producció de:

Zenobita edicions

Sarret Arbós, 16 1er

08240 Manresa

Tel. 93 875 73 63

www.zenobitaedicions.com

Autors:

© Pepa Asensio, Francesc Comas i

Josep Antoni Serra, pel text

© Doris Jiménez per les il·lustracions

© Els respectius autors i propietaris, per les fotografies i logotips dels canals de TV

Correcció lingüística: Teresa Santamaria

Disseny gràfic: Doris Jiménez

5a edició, 2017

ISBN del 2n volum: 978-84-936382-5-2

ISBN de la col·lecció: 978-84-936382-8-3

Dipòsit legal: B -13.872-2017


Imprés a Catalunya

ÍNDEX DE L'OBRA

A. LA COMARCA

1. On som? Som al centre de Catalunya 1
2. Quants pobles? Som trenta municipis . .7
3. Els mitjans de transport. Moltes carreteres i dos ferrocarrils 13
4. Els mitjans de comunicació. Pocs diaris i moltes ràdios 19

LA COMARCA. On som?

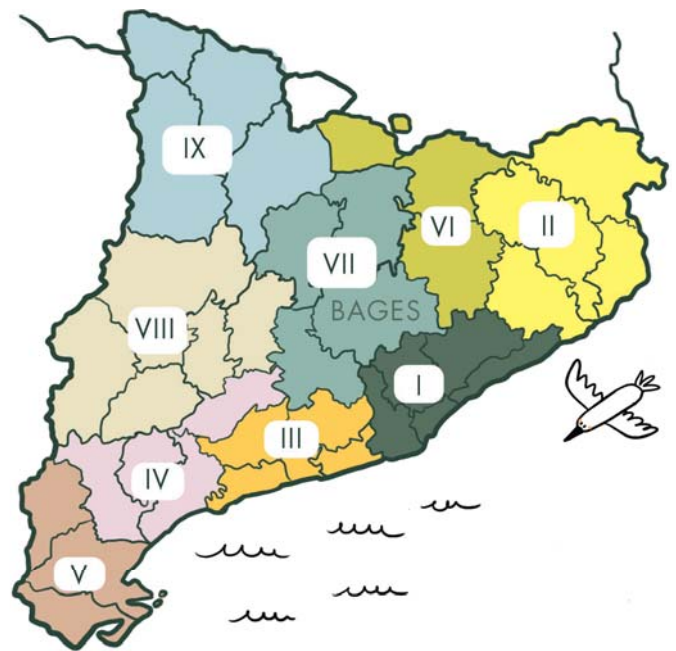


I. SOM AL CENTRE DE CATALUNYA



Fa uns vuitanta anys es va decidir que els municipis veïns d'un territori amb un paisatge i unes activitats econòmiques semblants, formarien una **comarca**.

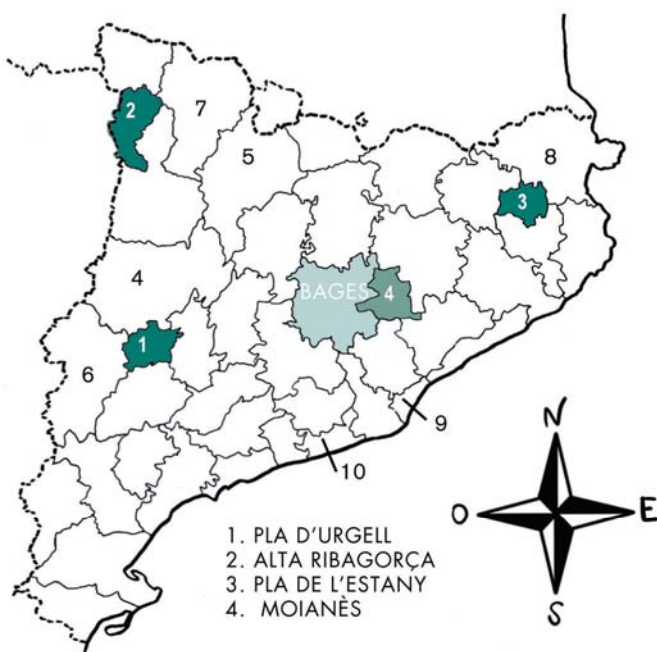
Algunes són molt grans (vegeu el mapa de sota), com la Noguera (4), l'Alt Urgell (5), el Segrià (6), el Pallars Sobirà (7) o l'Alt Empordà (8). En canvi, altres són molt petites, com el Pla de l'Estany (3), el Pla d'Urgell (1), el Moianès (4), el Barcelonès (9) o el Garraf (10). El Bages és de les grans, és la novena comarca pel que fa a l'extensió del territori, però és la desena pel que fa al nombre d'habitants que hi viuen.



L'any 1936 la Generalitat va decidir fer una nova divisió territorial de Catalunya: es van crear les comarques. N'hi havia trenta-vuit i es van agrupar en nou regions.

El territori del Bages està situat aproximadament al centre de Catalunya, per això es diu que és una de les comarques que formen part de la **Catalunya central**. Al nord té les comarques pirinenques.

A l'oest (a l'esquerra del mapa) té les comarques planeres de les terres de Lleida. A l'est (a la dreta del mapa) té les comarques litorals (les que estan prop del mar) i al sud les comarques de la zona de Tarragona. El fet que la nostra comarca estigui situada al centre del país, i que el riu Llobregat la travessi de dalt a baix, han facilitat les comunicacions amb les comarques veïnes.



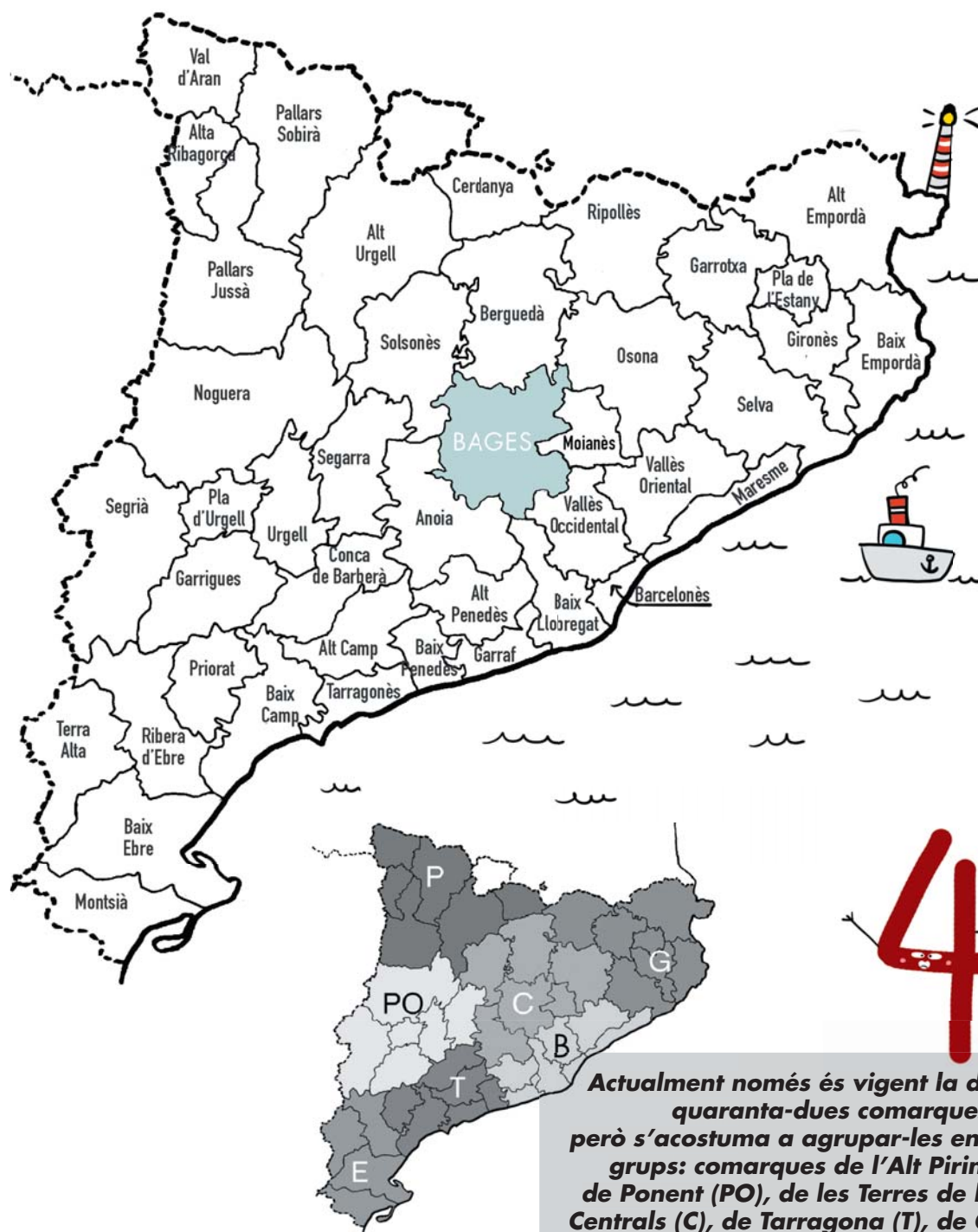
Durant els anys que va governar el general Franco les comarques es van suprimir, però el 1987 la Generalitat de Catalunya les va tornar a aprovar. Llavors se'n van crear tres de noves: el Pla de l'Estany, el Pla d'Urgell i l'Alta Ribagorça. L'any 2015 es va crear el Moianès. Ara n'hi ha quaranta-dues.

LA COMARCA. On som?

CLASSIFICACIÓ DE LES PRINCIPALS COMARQUES SEGONS LA POBLACIÓ. 2015




1 Barcelonès	2.225.144 hab.	6 Tarragonès	249.939 hab.
2 Vallès Occidental	900.661 hab.	7 Segrià	209.324 hab.
3 Baix Llobregat	806.651 hab.	8 Baix Camp	188.026 hab.
4 Maresme	439.512 hab.	9 Gironès	184.993 hab.
5 Vallès Oriental	400.375 hab.	10 Bages	174.604 hab.



42


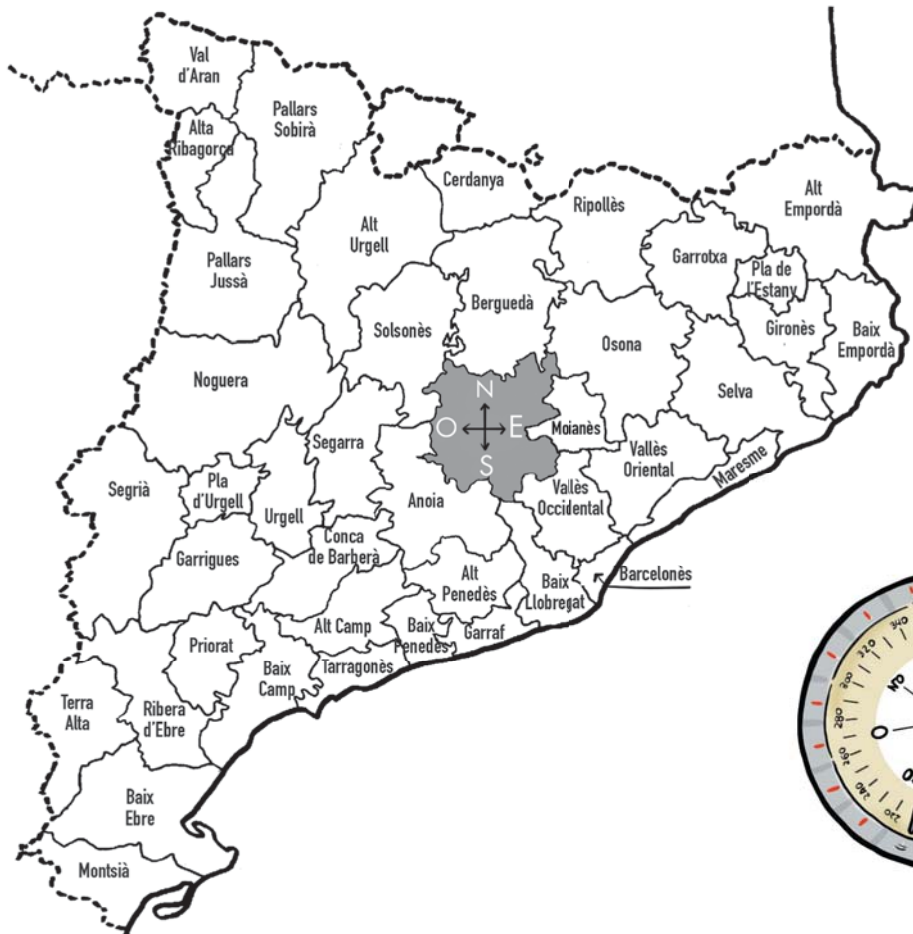
Actualment només és vigent la divisió en quaranta-dues comarques, però s'acostuma a agrupar-les en set grans grups: comarques de l'Alt Pirineu (P), de Ponent (PO), de les Terres de l'Ebre (E), Centrals (C), de Tarragona (T), de Girona (G) i de Barcelona (B).



Catalunya està dividida en quaranta-dues comarques. El Bages ocupa una posició central dins del territori català.



1 Respon les qüestions amb l'ajuda del mapa comarcal següent:



- Comarca litoral de sis lletres que està al sud del Bages i al costat del Baix Penedès.

--	--	--	--	--	--

- Comarca del Pirineu que està al nord-oest del Bages i només té la vocal *a* en el seu nom.

--	--	--	--	--	--	--	--	--	--

- Comarca de l'oest del Bages que es troba entre l'Anoia i l'Urgell.

--	--	--	--	--	--	--	--	--	--

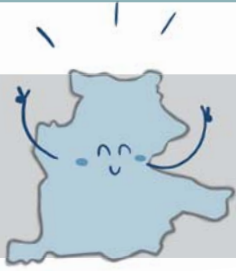

- Comarca de l'est del Bages que està entre la Selva i el Baix Empordà.

--	--	--	--	--	--	--	--	--	--

- Comarca de la Catalunya central de cinc lletres i dues vocals.

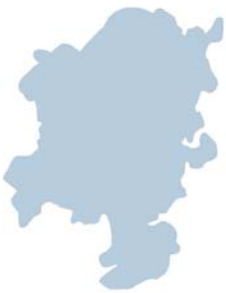
--	--	--	--	--





Les comarques, quan es van crear, es van agrupar en nou regions. El Bages, el Berguedà, el Solsonès i l'Anoia formaven la setena regió. Amb el temps, aquesta divisió s'ha anat canviant: la darrera modificació ha sigut l'any 2015 quan una part del Bages ha format el Moianès, una nova comarca.

2.1 Observa el contorn d'aquestes comarques. Quina d'aquestes siluetes correspon al Bages? Reconeixes les altres comarques de la regió setena? Endevides quines són les altres dues? Escribeu el nom a sota.



.....



.....



.....



.....



.....



.....

2.2 Subratlla la resposta correcta. 

La comarca del Bages es troba...

al nord del Barcelonès - al sud del Barcelonès - a l'oest del Barcelonès


El Bages està més al nord que...

el Priorat - el Berguedà - la Garrotxa

El Bages està més a prop...

de la Segarra que d'Osona - del Baix Llobregat que del Maresme - de l'Alt Penedès que del Solsonès





Segons els paisatges, les comarques de Catalunya es podrien classificar en tres models: a) alta muntanya, b) interior (seria el cas del Bages) i c) litoral o costa.

3 En aquesta sopa de lletres hi ha amagats els noms de vuit comarques de Catalunya. Tres són de l'interior, tres són de la costa i dues de l'alta muntanya.

S E G A R R A M
 E M A L R I C O
 G S R L E A S N
 R E R E A S N T
 I R A G I E M S
 A A F R O T U I
 R M O U N O I A
 C E R D A N Y A



- Comarques de l'interior de Catalunya

.....

.....

.....

- Comarques costaneres

.....

.....

- Comarques de l'alta muntanya

.....

.....



El fet que el Bages estigui situat al centre de Catalunya fa que la nostra comarca no sigui gaire lluny de la costa, de les zones de muntanya i de les planes de ponent.

4.1 D'aquesta llista de comarques encercla les que envolten el Bages. Després, situa-les en el mapa de Catalunya i escriu el número corresponent.

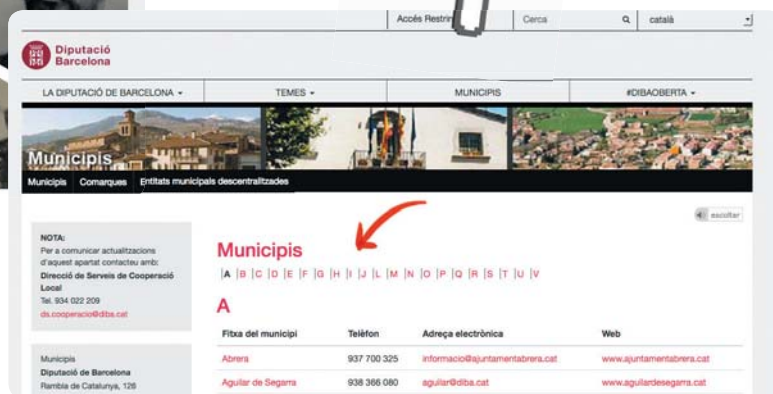
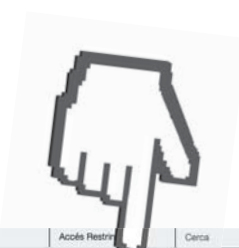
- | | |
|------------------|----------------------|
| 1 Pla d'Urgell | 7 Osona |
| 2 Berguedà | 8 Maresme |
| 3 Selva | 9 Segrià |
| 4 Baix Llobregat | 10 Alt Empordà |
| 5 Moianès | 11 Vallès Oriental |
| 6 Anoia | 12 Vallès Occidental |



4.2 Connecta't a la pàgina web de la Diputació de Barcelona:

<http://www.diba.cat>.

De la barra dels menús horitzontals, clica "Municipis" i a continuació clica la lletra per la qual comença el nom del teu municipi. Un cop surti el llistat, clica sobre el nom.



Escriu les característiques més importants del teu municipi: la situació, el nombre d'habitants i l'extensió. Si té pàgina web, busca informació sobre els monuments més importants.



2. SOM 30 MUNICIPIS

La comarca del Bages està formada per **trenta municipis**. Aquests municipis es podrien classificar de moltes maneres. Per exemple:

a) Segons el nombre d'habitants


N'hi ha que tenen menys de tres-cents habitants cada un, com Talamanca, Aguilar de Segarra o Marganell. Altres són municipis mitjans com Artés, Sant Vicenç de Castellet, Sallent, Sant Fruitós de Bages, Santpedor i Súria, amb més de cinc mil persones. I a Sant Joan de Vilatorrada n'hi viuen més de deu mil. Finalment, hi ha la ciutat de Manresa, que ha superat els setanta-quatre mil habitants. Manresa fa la funció de **capital** de la comarca del Bages.



El Moianès és una comarca creada l'abril del 2015. Està integrada per 10 municipis que fins aleshores havien format part del Bages: Mojà (4), Calders (2), Monistrol del Calders (3), l'Estany (5) i Santa Maria d'Oló (1); d'Osona: Collsuspina (6) i del Vallès Oriental: Castellterçol (8), Castellcir (9), San Quirze Safaja (10) i Granera (7).

b) Segons l'extensió

En aquest apartat també hi ha força varietat. Hi ha municipis que són molt petits com Navarcles, Callús i Monistrol de Montserrat. Hi ha els mitjans com Rajadell, Mura, Fonollosa i Sallent, entre altres. Finalment, n'hi ha dos de molt grans, Navàs i Sant Mateu de Bages. Aquest últim és un dels municipis més grans de tot Catalunya.



(1) Cardona (2) Navàs (3) Súria (4) Sant Mateu de Bages (5) Fonollosa (6) Aguilar de Segarra (7) Rajadell (8) Castellfollit del Boix (9) Sant Salvador de Guardiola (10) Marganell (11) Monistrol de Montserrat (12) Castellbell i el Vilar (13) Castellgalí (14) S. Vicenç de Castellet (15) Manresa (16) El Pont de Vilomara i Rocafort (17) Mura (18) Talamanca (19) Navarcles (20) Artés (21) Avinyó (22) Sant Feliu Sasserra (23) Gaià (24) Balsareny (25) Sallent (26) Castellsnou de Bages (27) Callús (28) Santpedor (29) St. Joan de Vilatorrada (30) St. Fruitós de Bages



c) Segons l'altitud



Alguns municipis es troben a poca altura, com Castellbell i el Vilar i Sant Vicenç de Castellet, que estan per sota dels dos-cents metres respecte del nivell del mar. Altres estan al voltant dels cinc-cents metres d'altitud com Cardona, Fonollosa i Talamanca. Per acabar, hi ha els que estan situats en altiplans com Castellfollit del Boix i Castelnou de Bages.

d) Segons les ocupacions dels seus habitants

Hi ha molt pocs pobles en què la principal activitat sigui l'agricultura i la ramaderia, per exemple Gaià, Sant Mateu de Bages o Aguilar de Segarra. En la majoria de municipis la indústria és la principal ocupació, per exemple Navarcles, Avinyó i Balsareny. Per últim, n'hi ha uns quants en què les activitats relacionades amb els serveis són les més importants. És el cas de Manresa i Monistrol de Montserrat.



Distribució de la població ocupada per sectors d'activitats.
Dades obtingudes del programa Hermes de la Diputació de Barcelona. Informació estadística local referent al mercat de treball de l'any 2015.

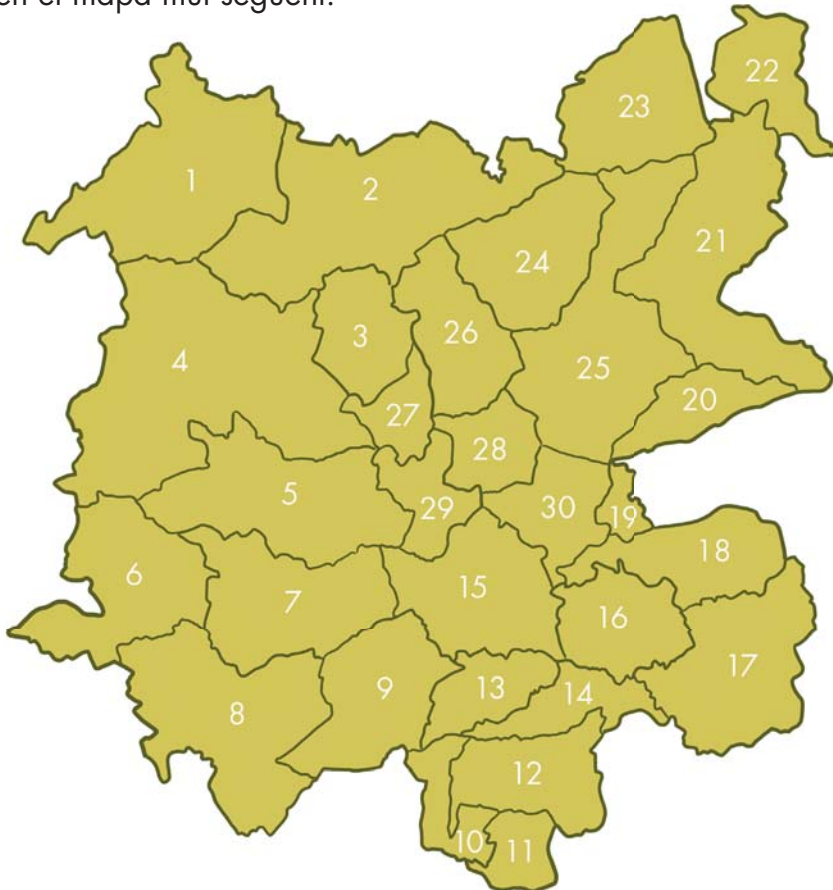
NOM MUNICIPI

	1	2	3	4
Aguilar de Segarra	24	4	7	19
Artés	39	754	105	747
Avinyó	49	596	47	301
Balsareny	18	498	64	347
Callús	11	60	30	245
Cardona	114	328	123	723
Castellbell i el Vilar	7	273	93	452
Castellfollit del Boix	25	7	5	40
Castellgalí	6	363	30	217
Castelnou de Bages	9	10	26	102
Fonollosa	30	27	166	147
Gaià	13	10	3	21
Manresa	102	4.073	1.394	18.379
Marganell	6	26	1	72
Monistrol de Montserrat	3	240	32	667
Mura	5	5	3	35
Navarcles	7	206	148	704
Navàs	54	232	170	954
Pont de V. i Rocafort	4	71	50	314
Rajadell	16	7	40	53
Sallent	61	1.046	268	2.363
Sant Feliu Sasserra	17	74	20	60
Sant Fruitós de Bages	34	2.229	322	3.794
Sant Joan de Vilatorrada	18	698	173	2.885
Sant Mateu de Bages	48	60	24	56
Sant Salvador de Gual	17	499	65	387
Sant Vicenç de Castellet	10	986	168	860
Santpedor	35	1.675	169	1.827
Súria	24	969	160	699
Talamanca	1	1	0	16
TOTAL BAGES	807	16.027	3.906	37.486



La comarca del Bages està formada per un total de trenta municipis d'extensions molt diverses. El nombre d'habitants també varia d'un municipi a l'altre, ja que al costat dels pobles petits ens podem trobar amb pobles de més de dos mil habitants.

I Amb l'ajuda del mapa dels municipis del Bages identifica el nom d'aquests municipis. Escribeu les respostes en el mapa mut següent:



• Quin municipi és el que està al costat de Navàs: *(Subratlla la resposta correcta).*

Balsareny o Aguilar de Segarra?

• Quin municipi es troba més a prop de Callús: *(Subratlla la resposta correcta).*


el Pont de Vilomara i Rocafort o Mura?

• Quin municipi de cinc lletres està entre Sant Mateu de Bages i Castellnou de Bages?

• Quin municipi de la comarca té quatre vocals iguals?

• Quin és el municipi que està més al sud del Bages?

• Quins dos municipis de la comarca tenen les cinc vocals?



Molts noms dels pobles de la comarca estan formats per dues paraules. Per exemple n'hi ha que tenen el nom relacionat amb la paraula castell, que ens recorda que ja era un poble important en el temps que es construïen fortaleses. Altres porten el nom de l'església del poble.

2 Relaciona amb fletxes els noms d'aquests municipis de la comarca i situa'ls amb el número en el mapa.

1 Sant Mateu de

2 Sant Salvador

3 Sant Vicenç de

4 Monistrol de

5 Castellbell i

6 Sant Joan de

7 El Pont de

8 Aguilar de

Vilatorrada

Segarra

Vilomara i Rocafort

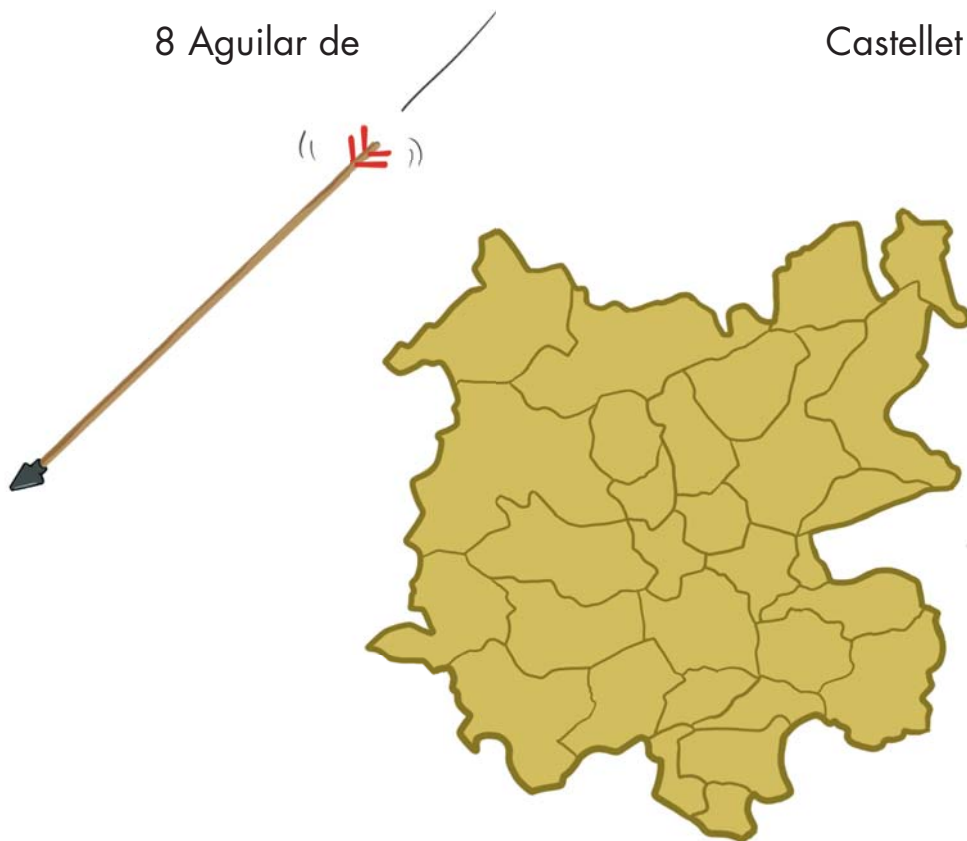
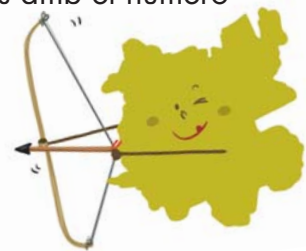
Bages


Montserrat

de Guardiola

el Vilar

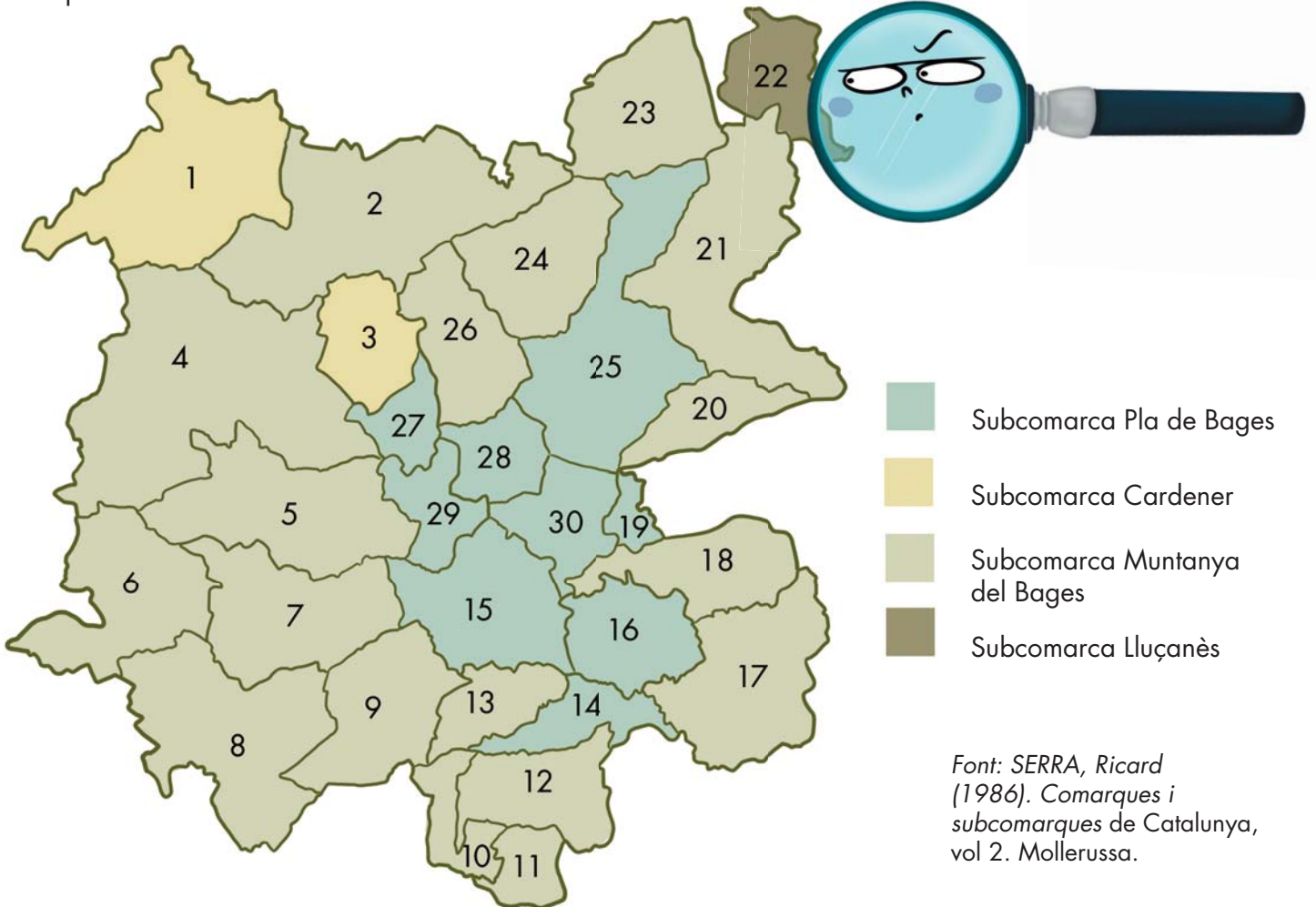
Castellet






El Bages el componen 30 municipis. Ara bé, a part d'aquesta divisió oficial hi ha persones expertes que consideren que el territori pot tenir altres divisions. Per exemple les subcomarques, que serien unes organitzacions més petites que agruparien uns quants municipis amb unes característiques semblants.

3 Observa el mapa del Bages, en què s'han assenyalat unes quantes subcomarques, i completa el quadre.



- A quina subcomarca s'ha inclòs el teu municipi?
.....
- Quins altres municipis hi consten?
.....
- Què tenen en comú tots aquests municipis?
.....
- Amb quins municipis t'agradaria formar una subcomarca? Com us podrieu anomenar?
.....
.....



Els municipis presenten formes i extensions molt diferents. N'hi ha de molt grans i d'altres de molt petits. Per exemple, tota la superfície del municipi de Sant Mateu de Bages és vint vegades més gran que l'extensió de Navarcles i nou vegades més gran que Monistrol de Montserrat.

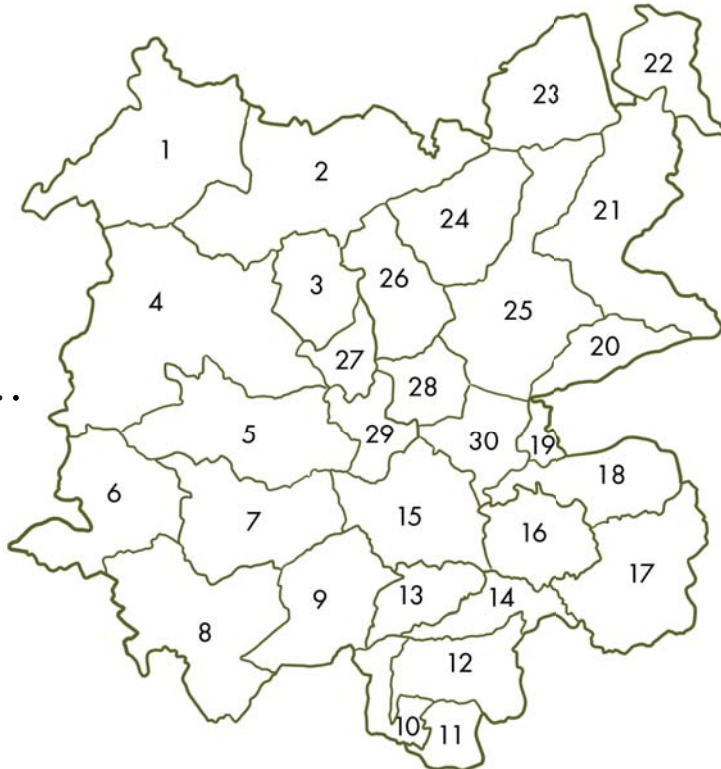
4 Observa el contorn d'aquests municipis. Relaciona cada silueta amb el nom del municipi.



.....



.....



.....



• A quin municipi vius? Quin número té al mapa?

.....

• Escribe el nom de tots els pobles que l'envolten.

.....

.....

• El teu poble té una altra comarca al costat? Quina?

.....



3. MOLTES CARRETERES I DOS FERROCARRILS

Les persones ens movem i ens desplaçem d'un lloc a l'altre. Per entrar o sortir de la nostra comarca hem de seguir unes **vies de comunicació**.

Abans aquestes vies eren els camins, però des de fa molts anys podem traslladar-nos amb unes altres **vies més ràpides i còmodes**. Són les carreteres, les autopistes i el tren.

Com que el Bages és una comarca situada a la zona central de Catalunya, la travessen carreteres i ferrocarrils que van a altres llocs.

Aquestes vies de comunicació es van construir al **costat dels rius**, tot aprofitant les valls que formaven. Per això, els principals eixos de comunicació segueixen les valls dels rius Llobregat i Cardener.

El Bages té una **autopista** que ve de Terrassa i que quan passa per Sant Fruitós de Bages es transforma en una **autovia**. És una via de comunicació ràpida que posa en contacte les comarques del litoral català amb el Pirineu a través del túnel del Cadí. Es coneix amb el nom d'**eix del Llobregat**, ja que segueix el curs d'aquest riu durant la major part del seu recorregut.



La comarca del Bages la travessa una autopista de peatge que ve de Terrassa. A partir de Sant Fruitós es transforma en una autovia fins a Berga.



El tren de potassa a Sùria. De Manresa surten dues línies més de tren, la que va a Sùria i la que va a Sallent. Només es fan servir per transportar la potassa que s'extreu de les mines d'aquests pobles i que es trasllada al port de Barcelona, on es distribueix amb vaixells cap a altres països del món. Les dues línies són dels Ferrocarrils de la Generalitat de Catalunya (FGC).





Una altra carretera important és l'**eix Transversal** que creua la comarca d'oest a est (d'esquerra a dreta) i comunica les comarques de l'interior de Catalunya amb les de la costa gironina.

Però el Bages també té altres carreteres importants com l'**eix del Cardener** que comunica Manresa amb els pobles de la vall del Cardener i l'eix Diagonal que comunica Manresa amb les comarques del Garraf i el Penedès.


També són destacables la **carretera de Manresa cap a Abreva** i el **Baix Llobregat** i la **carretera de Terrassa** i els pobles del Vallès.

A més, hi ha altres vies menys importants, les carreteres locals, que connecten els diversos pobles de la comarca.


Una altra manera de traslladar-nos és utilitzant la **xarxa ferroviària**. Al Bages hi ha dos tipus de via. La via ampla de **RENFE** que transporta passatgers i mercaderies cap a Barcelona i Lleida. L'altra és la via estreta dels **Ferrocarrils de la Generalitat (FGC)**, els Catalans, que ens connecta amb Barcelona i que transporta passatgers i minerals extrets de les mines del Bages.



*La carretera que va de Manresa a Igualada s'ha reformat fa ben poc temps. A més de facilitar les comunicacions amb la comarca veïna de l'Anoia, ha millorat molt les comunicacions de St.Salvador de Guardiola i Castellfollit del Boix amb Manresa.
(Foto: Departament de Territori i Sostenibilitat)*



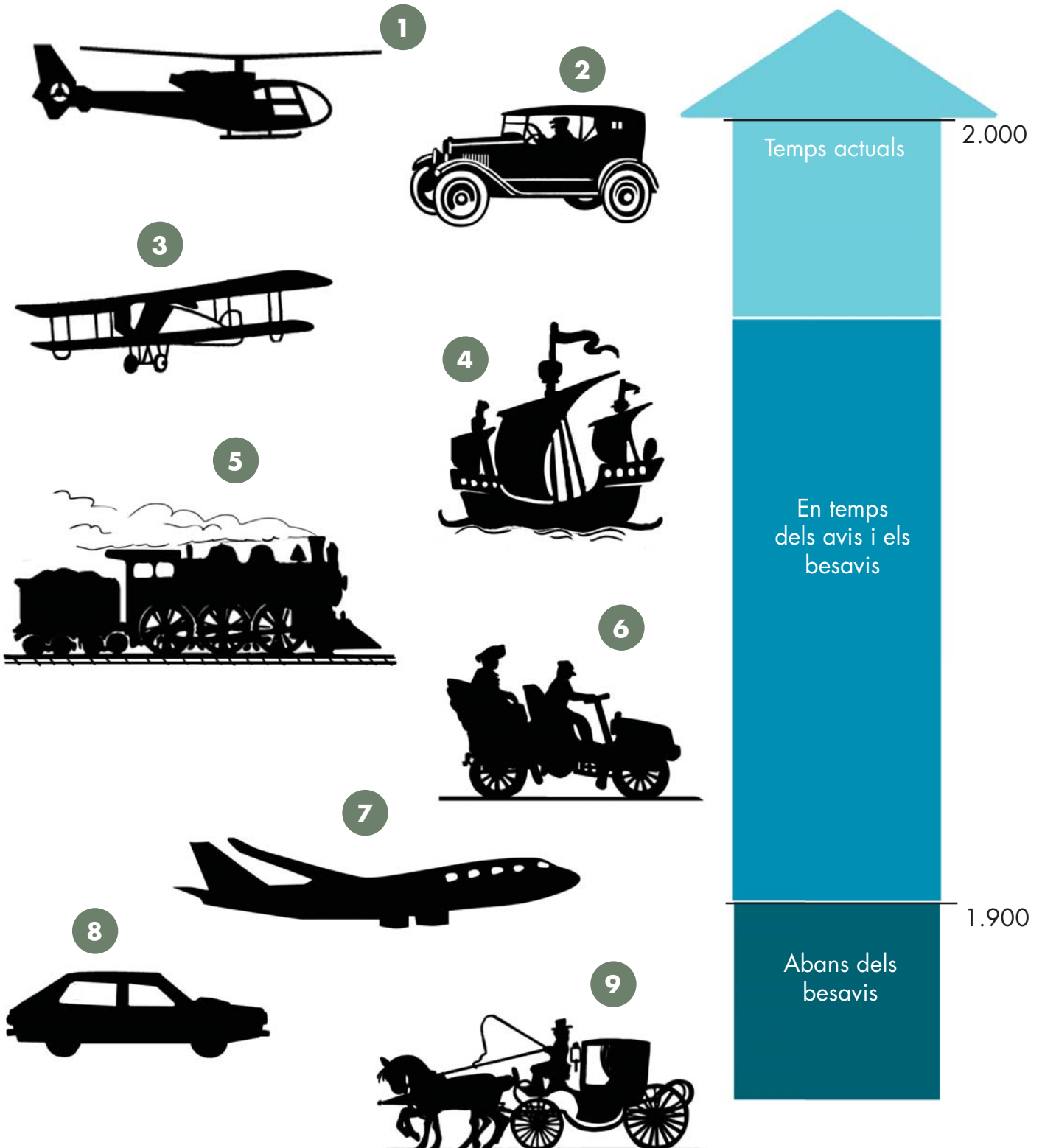
*Sortida d'un tren de l'estació del Nord de Manresa, en temps dels avis. Fa més de trenta anys que les locomotores de vapor es van substituir per les elèctriques.
(Font: Arxiu Jaume Pons)*






Les persones sempre s'han desplaçat d'un lloc a l'altre. Però abans, com que hi havia pocs mitjans de transport, la gent no anava a gaires llocs. Quan necessitaven una cosa que no podien fer ells o no trobaven al poble, anaven a una localitat propera més gran que solia ser la capital de la comarca.

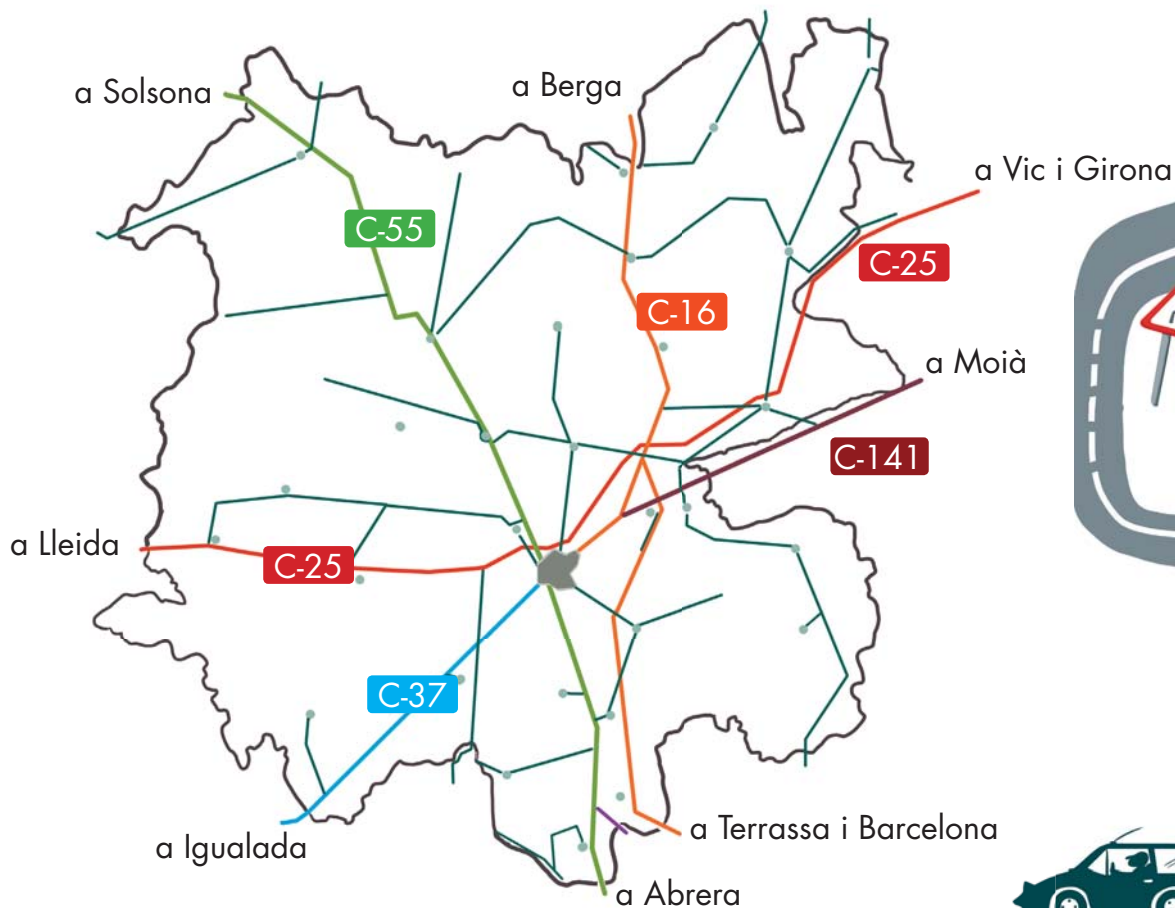
1 Els mitjans de transport han canviat molt des que els nostres besavis eren petits fins ara. Situa en aquest fris l'època en què era més important cada mitjà de transport.






Hi ha carreteres molt amples, com les autopistes i les autovies, amb dos carrils per banda. Altres carreteres no ho són tant. Són les anomenades bàsiques o preferents. Finalment, hi ha carreteres més estretes i petites que comuniquen pobles no gaire grans: són les vies locals.

2 Amb l'ajuda del mapa de carreteres, completa el quadre i anota les diferents vies que agafarem per anar d'un lloc a l'altre del Bages o a les comarques veïnes.



Itinerari	Carretera que farem servir
Cardona - Súria	
Manresa - Berga	
St. Salvador de Guardiola - Igualada	
Artés - Girona	
Castellgalí - Monistrol de Montserrat	
Manresa - Vilafranca del Penedès	
Navarcles - Moià	



Actualment, el transport públic del Bages ha millorat. El Consell Comarcal ha fet un pla de mobilitat i s'ha ampliat el nombre d'autobusos diaris i la freqüència de pas a la majoria de municipis.

3 Observa el mapa on s'ha representat, amb unes ratlles de colors, el recorregut de diferents línies de transport cap als municipis del Bages i comarques properes.

- Per algun d'aquests pobles no hi passa cap línia d'autobús. Subratlla'l.



Súria - Gaià - Sallent - Marganell - Avinyó - Mura - Sant Mateu de Bages - Artés

- Per què?

Perquè tothom té cotxe per desplaçar-se

Perquè hi viu poca gent

Perquè la gent no necessita anar a cap altre poble

Perquè ja hi passa el tren

- Per quin municipi passen totes les línies d'autobusos?

.....

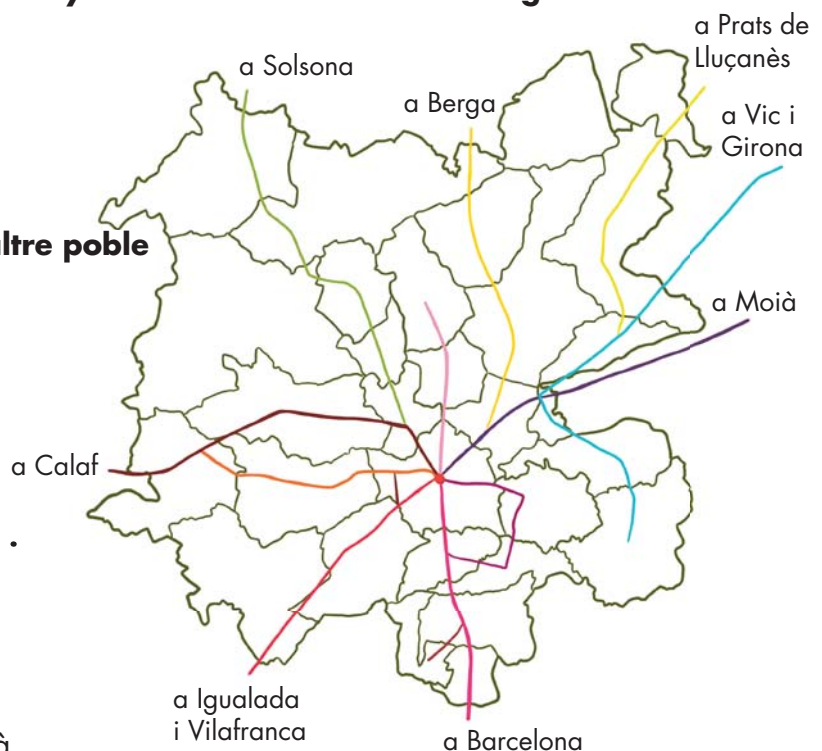
- Connecta't a la pàgina web del teu municipi, busca l'apartat d'equipaments i serveis, concretament el transport públic i allà podràs trobar els horaris de busos. Busca quants autobusos hi passen cada dia. A quina hora passa el primer? I l'últim? S'ha de fer transbordament? A quin lloc?

.....

.....

.....

- Comenta amb els teus companys de classe si són suficients o no. Si cal fer transbordament, comenteu per quines causes passa això.





A la comarca hi ha dues companyies de trens, la RENFE i els Ferrocarrils de la Generalitat de Catalunya (FGC), però només passen per alguns pobles de la meitat sud de la comarca.

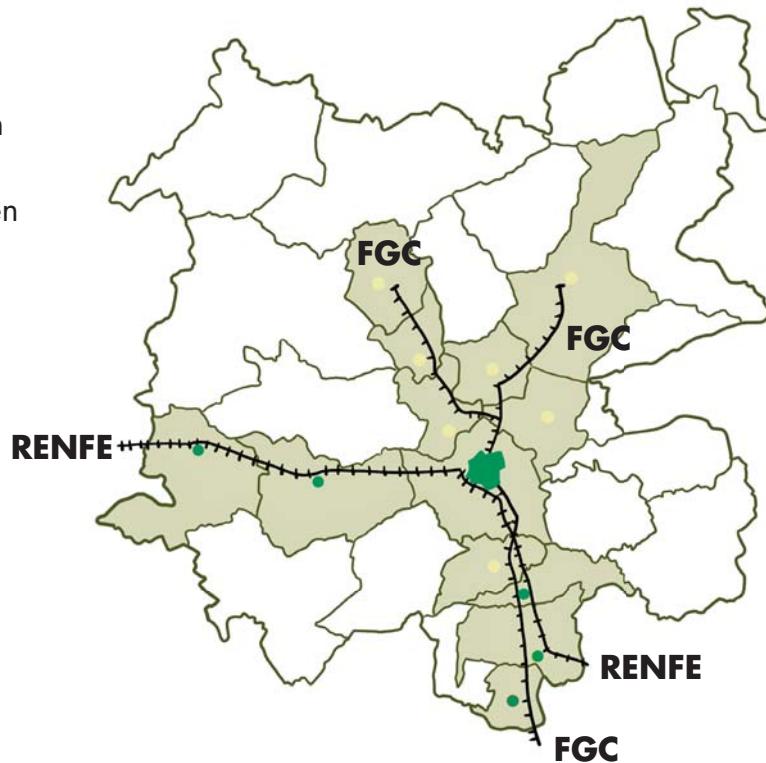
4.1 A partir de la informació que et proporciona el mapa, a quins d'aquests pobles podem viatjar amb tren?

Gaià - Navàs - Castellbell i el Vilar - Sant Vicenç de Castellet -

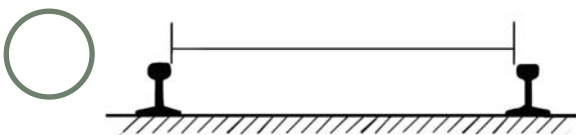
Sallent - Avinyó - Monistrol de Montserrat - Aguilar de Segarra - Marganell -

Fonollosa - Sant Salvador de Guardiola - Súria

- Municipi amb estació de tren
- Municipi sense estació de tren



4.2 En aquests dibuixos hi ha objectes que estan relacionats amb la RENFE (R) i altres amb els Ferrocarrils de la Generalitat de Catalunya (C). Identifica'ls.





4. POCS DIARIS I MOLTES RÀDIOS

Les persones tenim necessitat de comunicar-nos i de saber coses, i per això hem de fer servir diferents mitjans de comunicació.

N'hi ha que serveixen perquè dues persones es relacionin, com el telèfon i les cartes. Però n'hi ha d'altres en què la informació va dirigida a molta gent, com els diaris, les revistes, la ràdio i la televisió, que també fa temps que existeixen.

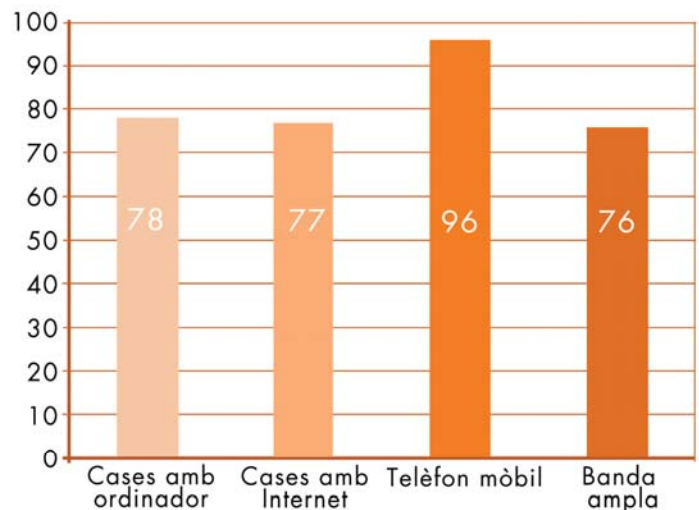
En aquests últims temps han aparegut **nous sistemes de comunicació** anomenats telecomunicacions, com Internet i la telefonia mòbil que, a més d'informar-nos de fets i coses, ens permeten connectar-nos amb altres persones i mantenir-hi una relació constant.

A la nostra comarca tenim diferents mitjans de comunicació. Hi ha **diaris** com Regió7 (10.000 exemplars diaris, aproximadament), que va aparèixer l'any 1978, ara fa més de trenta anys, i altres publicacions que han aparegut més tard i arriben a un territori més reduït, com Freqüència, que ara és una publicació d'edició setmanal que distribueix uns 12.000 exemplars de forma gratuïta al Bages. També tenim alguns diaris en format digital: *Regió7*, *el Setmanari.cat* i *Nació Manresa- Nació digital*, que són informatius diaris de les comarques centrals.



Façana de la redacció de Regió7. El diari és un mitjà de comunicació que arriba a molta gent. Els diaris tenen molta història, ja que van començar a aparèixer fa més de dos-cents anys. Abans se'n publicaven molts, però ara, a causa de l'aparició d'altres mitjans de comunicació, n'hi ha molts menys.
(Foto: Regió7)

ÚS DE LES NOVES TECNOLOGIES



Els mitjans de comunicació han canviat molt des que han aparegut les noves tecnologies de la informació. Internet i la telefonia mòbil permeten comunicar-se fàcilment i conèixer fets que han passat fa poc. En aquest gràfic es pot comprovar la quantitat d'usuaris del Bages que tenen aquests nous sistemes de comunicació.

Per exemple: 96 persones de cada 100 tenen telèfon mòbil, i 78 famílies de cada 100 tenen ordinador. (Font: Idescat, 2013)



També hi ha **ràdios** que es poden escoltar a bona part de la comarca i tenen una programació de moltes hores, mentre que n'hi ha d'altres que només emeten durant algunes hores per al poble on es troben.

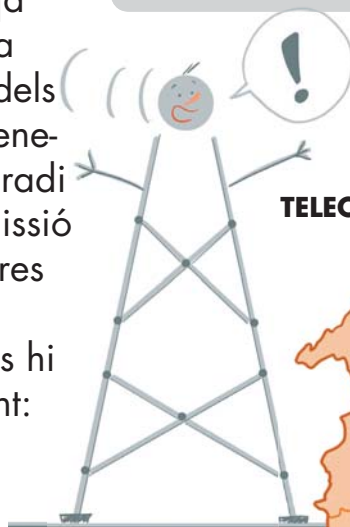
Les **revistes** també poden ser d'àmbit comarcal o local. A molts pobles hi ha una publicació que surt periòdicament (cada mes, cada trimestre...) i que dona informació de fets que passen al poble o ciutat.

Les **televisions locals** són un altre mitjà de comunicació que serveix perquè la gent d'un lloc estigui ben informada dels fets que passen al poble on viuen. Generalment aquestes televisions tenen un radi de difusió molt reduït i les hores d'emissió són poques, mentre que la resta d'hores estan connectades a una televisió nacional. Actualment, al Bages només hi ha una empresa que emet regularment: Canal Taronja-Catalunya Central.

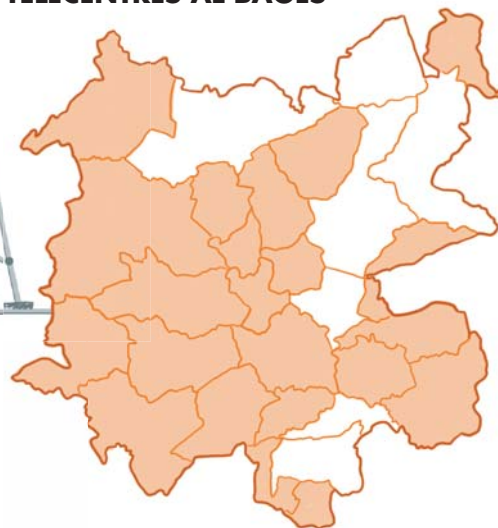
En els últims anys s'han obert els telecentres o Xarxa Punt Tic que són uns espais oberts on la gent pot fer servir ordinadors, connectar-se a Internet i trobar el suport d'un professional que els ajudi a moure's per la xarxa i els doni una formació entenedora i adaptada a les seves necessitats.



Alguns ajuntaments, entitats, associacions i clubs esportius, entre altres, publiquen revistes de manera periòdica per donar a conèixer les seves activitats.
(Fotos: www.lartesenc.cat i www.prezi.com)




TELECENTRES AL BAGES



● Municipis que tenen PUNT TIC.

Aquesta innovació pràcticament arriba a tots els pobles del Bages. Aquests centres duen a terme tasques d'alfabetització i formació digitals, assessorament i difusió en matèria TIC, i fomenten els usos econòmics de les TIC, com ara el teletreball.
(Font: Consell Comarcal del Bages)

LA COMARCA. Els mitjans de comunicació Activitat 1



La premsa periòdica local informa sobretot de la seva zona d'influència. A la comarca del Bages es publica un diari (Regió7) que també té la seva versió digital i una publicació setmanal (Freqüència). També hi ha altres diaris que només són digitals com el 7manari i Nació Manresa.


1 Observa la capçalera d'aquest diari comarcal i **subratlla** la resposta correcta.



- Quants anys fa que es publica Regió7?
.....
- Quant costa un exemplar?
.....
- Per què creus que a la capçalera hi posa "El diari de la Catalunya central"?
 - Perquè dóna informació del centre de la comarca.
 - Perquè només ofereix informació de Manresa, que "és el cor de Catalunya".
 - Perquè ofereix informació de les comarques que estan situades al centre de Catalunya.
 - Perquè dóna informació preferent dels Pirineus centrals.
- Quins d'aquests titulars poden aparèixer amb més facilitat al diari Regió7?
 - Els escolars del Bages estudien la comarca.
 - Molta gresca a la Patum de Berga.
 - A Tarragona comencen les festes de Santa Tecla.
 - Molta gent a la Festa de Primavera que van celebrar totes les escoles de Girona.
 - Inauguren el Museu del Ganivet a Solsona.



LA COMARCA. Els mitjans de comunicació Activitat 2



Un mitjà de comunicació que té molta audiència és la ràdio. Al Bages tenim emissores de ràdio que són d'àmbit comarcal, però generalment depenen d'una emissora que emet per a tot Catalunya. També hi ha emissores locals que només funcionen unes hores i tenen una difusió més limitada.

21 Situa en el mapa de la comarca els municipis que tenen una emissora de ràdio.


Ràdio Cardona	Ràdio Manresa	Ràdio Sallent
La veu de Navàs	Ràdio el Pont de Vilomara	Ràdio Sant Fruitós de Bages
Ràdio Avinyó	Ràdio Monistrol de Montserrat	Ràdio Santpedor
Ràdio Club 7 Castellbell i el V.	Ràdio Balsareny	Ràdio Sant Salvador de G.
Ràdio Sant Joan de Vilatorrada	Ràdio Súria	Ràdio Sant Vicenç de C.

22 Assenyala les respostes correctes

- Al Bages hi ha més de vint emissores de ràdio locals.
- Sant Vicenç de Castellet, Súria i Navàs tenen emissora de ràdio local.
- Rajadell, Balsareny i Cardona no tenen ràdio local.
- A la comarca hi ha menys de 10 emissores de ràdio locals.
- No tenen ràdio local Mura, Aguilar de Segarra i Castellfollit del Boix.
- Sant Fruitós de Bages té més ràdios locals que Manresa.
- El Bages té entre deu i vint ràdios locals.
- Sallent, Súria i Rajadell tenen ràdio local.



LA COMARCA. Els mitjans de comunicació Activitat 3



A molts pobles es publica un cop al mes o cada trimestre una revista que recull els fets més importants que han passat. La publicació més antiga de la comarca és el setmanari Súrria que surt un cop cada setmana des de fa uns seixanta anys.

3.1 S'edita alguna revista al teu poble? Realitza un petit treball de recerca per tal de respondre a les qüestions següents:

- Com es diu?

.....

- Quina periodicitat té (cada quan surt)?

.....

- Quina entitat o persones són els màxims responsables?

.....

.....

- La llegiu a casa? Quines seccions agraden més?

.....

.....

3.2 Moltes escoles també publiquen una revista sobre les activitats del centre.

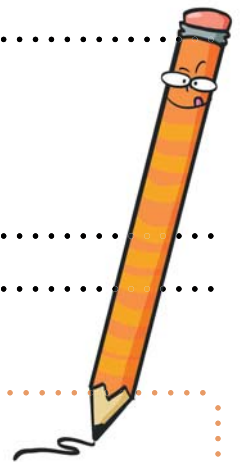
- A la teva escola publiquen alguna revista? Com es diu? Cada quan surt?

.....

.....

- Dibuixa o enganxa la capçalera de la revista.

.....




3.3 Ara, connecta't a <http://xtec.gencat.cat/ca/centres/alscentres/revistes/>

Aquí trobaràs revistes de primària i de secundària; obre'n alguna, mira-la bé i comenta amb els teus companys les semblances i diferències amb la revista de la vostra escola.

The screenshot shows the XTEC website interface. At the top, there is a search bar and navigation links for 'Recursos', 'Centres', 'Currículum i orientació', 'Comunitat', 'Formació', 'Projectes', 'Innovació', 'Serveis educatius', 'Atenció a l'usuari', and 'La meua XTEC'. Below this, there is a breadcrumb trail: 'Inici > Centres > Als centres > Revistes'. The main heading is 'Revistes'. At the bottom of the page, there is a 'Formulari' button and two tabs: 'Revistes d'escoles' and 'Revistes d'instituts'.

LA COMARCA. Els mitjans de comunicació Activitat 4



Un altre mitjà de comunicació és la televisió. Al Bages es poden veure diversos canals lliures i molts de pagament.

4.1 Observa els símbols d'alguns dels canals de televisió que es poden veure a la comarca. Pinta de color vermell els quadrets dels canals que són propis del Bages. De color groc els dels canals que són de Catalunya. I de color blau els dels canals que es veuen a tot Espanya.



4.2 Taronja TV és l'única televisió d'àmbit comarcal que tenim actualment al Bages. Connecta't a la pàgina web d'aquest canal <http://canaltaronja.tv/bages/canals-tv/>, busca la programació del dia de la setmana que tu vulguis i respon a les preguntes següents:

• A quina hora comença i a quina hora acaba la programació?

• A quines hores fan els informatius?

• Fan algun programa relacionat amb la salut? Quin? A quina hora?

• A quina hora fan el programa d'esports?

